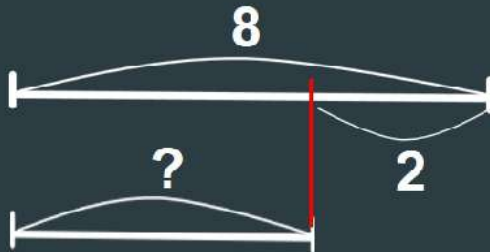


Кирило купив 8 пиріжків із сиром, а з капустою на 2 пиріжки менше. Скільки пиріжків з капустою купив Кирило?



$$6+2=8(\text{п.})$$

$$8+2=10(\text{п.})$$

$$8-6=2(\text{п.})$$

$$8-2=6(\text{п.})$$

## Склади і розв'яжи задачу




10 ніг



?, на 4 менше


Перевірка

Розв'язання



Інструменти





**Оленка повісила на ялинку 9 кульок, а Сергійко на 3 кульки менше. Скільки кульок повісив Сергійко?**

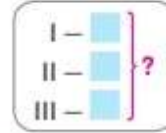
5

6

4

7

## ДОСЛІДЖУЄМО ЗАДАЧІ НА ЗНАХОДЖЕННЯ СУМИ ТРЬОХ ДОДАНКІВ



1 Перевір, чи правильно Оля розв'язала задачу.

Тато купив 2 кг яблук, 3 кг груш і 4 кг картоплі. Скільки всього фруктів купив тато?

*Задача*

Ябл. — 2 кг }  
Гр. — 3 кг } ?


*Розв'язання*

$2 + 3 = 5$  (кг)

*Відповідь:* всього 5 кг фруктів.

Яке число не було використане в розв'язанні задачі? Зміни запитання так, щоб це число також було потрібне для відповіді на запитання задачі. Як ця зміна вплине на розв'язування? Що достатньо знати, щоб відповісти на запитання одержаної тобою задачі?

2 З'ясуй, якій задачі відповідають обидві схеми.



1) У стайні 4 білих коней, 2 вороних і 5 — сірих.  
Скільки всього коней у стайні?

2) У стайні 4 білих коней, 2 вороних і 5 — сірих.  
Скільки білих і вороних коней у стайні?

3 Прокоментуй розв'язування.

$9 + 4$

$13 - 5$

$8 + 3$

$11 - 4$

$$\begin{array}{r} 6 + 5 \\ \swarrow \searrow \\ 4 + 1 \end{array}$$

$$\begin{array}{r} 12 - 3 \\ \swarrow \searrow \\ 2 + 1 \end{array}$$