

5 Визнач, які фарби обрав художник. З'єднай лінією фарби з палітрою.



$4 + 3$

$6 - 2$

$4 + 4$

$6 - 3$

$10 - 2$



$1 + 7$

$9 - 4$

$5 + 4$

$5 + 2$

$3 + 5$

6 Обчисли. Визнач, які тістечка поставив кухар у пічі. З'єднай їх лініями.

□	+	3	=	8
---	---	---	---	---

9	-	□	=	7
---	---	---	---	---

□	+	4	=	8
---	---	---	---	---

9	-	3	=	□
---	---	---	---	---

□	-	2	=	5
---	---	---	---	---

6	+	2	=	□
---	---	---	---	---



7 Визнач, який шлях пройде археолог до розкопок. Впиши потрібні числа.



8	-	□	=	7
---	---	---	---	---

+	□	+	2	=	□
3	+	2	=	□	
-	□	=	□		
+	1	=	□		

□	+	3	=	□
---	---	---	---	---

2	=	□	-	4
+	□	=	□	
+	□	=	□	
1	=	□	+	6
-	□	=	□	
+	3	=	□	

Картка 5. Математика з Будильником

1. Будильничок любить точність, доведи, що ти кмітливо правильно знаходиш значення виразів.



$$\begin{aligned} 5+3-2 &= \square \\ 8-6+4 &= \square \\ 7+3-6 &= \square \\ 9-5+2 &= \square \\ 6+3-5 &= \square \\ 10-5-3 &= \square \\ 3+2+5 &= \square \end{aligned}$$

2. Запиши "сусідів" кожного числа.

<input type="text"/>	15	<input type="text"/>		<input type="text"/>	11	<input type="text"/>
<input type="text"/>	18	<input type="text"/>		<input type="text"/>	11	<input type="text"/>

3. Розв'язай задачу.

Були - 8 
 Купили - 7 на 5  менше

Відповідь: _____

Картка 6. Математика з Будильником

1. Будильничок любить точність, доведи, що ти кмітливо правильно знаходиш значення виразів.



$$\begin{aligned} 8+2-6 &= \square \\ 7-6+5 &= \square \\ 10-8+7 &= \square \\ 3+6-2 &= \square \\ 6+3-2 &= \square \\ 7-4-3 &= \square \\ 2+5+3 &= \square \end{aligned}$$

2. Запиши "сусідів" кожного числа.

<input type="text"/>	14	<input type="text"/>		<input type="text"/>	19	<input type="text"/>
<input type="text"/>	17	<input type="text"/>		<input type="text"/>	12	<input type="text"/>

3. Розв'язай задачу.

Були - 4 
 Отримали - 1 на 3  більше

Відповідь: _____

$1 + 1 = \square$	$6 + 2 = \square$	$6 - 1 - 1 = \square$
$2 + 1 = \square$	$8 + 2 = \square$	$3 + 1 + 1 = \square$
$7 - 1 = \square$	$5 + 2 = \square$	$4 - 1 - 1 = \square$

Літало 5 бабок. До них приєдналося ще 3. Скільки бабок стало?



Розв'язання

Час: хв ___ с ___

1

Відповідь: _____

Помилко

😊 😞 😡

1. Розфарбуй у кожному рядку відповідну кількість квадратів. Доповни рівності.

1	<input type="checkbox"/> <input type="checkbox"/> <input type="checkbox"/> <input type="checkbox"/> <input type="checkbox"/> <input type="checkbox"/> <input type="checkbox"/> <input type="checkbox"/> <input type="checkbox"/> <input type="checkbox"/>	$9 = 1 + \square$
2	<input type="checkbox"/> <input type="checkbox"/> <input type="checkbox"/> <input type="checkbox"/> <input type="checkbox"/> <input type="checkbox"/> <input type="checkbox"/> <input type="checkbox"/> <input type="checkbox"/> <input type="checkbox"/>	$9 = 2 + \square$
3	<input type="checkbox"/> <input type="checkbox"/> <input type="checkbox"/> <input type="checkbox"/> <input type="checkbox"/> <input type="checkbox"/> <input type="checkbox"/> <input type="checkbox"/> <input type="checkbox"/> <input type="checkbox"/>	$9 = 3 + \square$
4	<input type="checkbox"/> <input type="checkbox"/> <input type="checkbox"/> <input type="checkbox"/> <input type="checkbox"/> <input type="checkbox"/> <input type="checkbox"/> <input type="checkbox"/> <input type="checkbox"/> <input type="checkbox"/>	$9 = 4 + \square$


2. Користуючись числовим променем, порівняй числа й доповни рівності.

3 5 4 8 9 7 8 9 6 9



$2 + 2 = \square$ $6 - 2 = \square$ $3 + 3 = \square$ $7 - 2 = \square$

- 3.







$7 + 1 + 1 = \square$
 $6 + 1 + 1 = \square$ $5 + 1 + 1 = \square$ $4 + 1 + 1 = \square$

- 4.* Двом котикам купили чобітки. Скількох каченят можна взяти в ці чобітки? Обведи.



- 5.

9	9	9																		
7	7	7																		

$9 + 5 - 7 =$ $13 - 7 + 9 =$ $12 - 6 + 5 =$ $7 + 6 - 8 =$	$15 - 7 + 5 =$ $8 + 7 - 9 =$ $18 - 9 + 3 =$ $14 - 6 + 4 =$	<p>Склади і розв'яжи задачу.</p> <p> – 8</p> <p> – стільки ж</p>
$13 + 6 - 1 =$ $16 - 3 + 5 =$ $20 - 10 + 0 =$ $17 + 3 - 10 =$	$10 - 10 + 0 =$ $10 - 4 + 12 =$ $20 - 8 + 2 =$ $18 - 6 + 2 =$	<p>Розв'яжи задачу.</p> <p> – 8</p> <p> – стільки ж</p>

© Copyright 2011, www.spokenbox.co.uk